



1 Zerlege diese Quadrate durch das Einzeichnen einer Geraden.


in zwei
Rechtecke.



in zwei
Dreiecke.




in ein Dreieck
und ein Viereck.




2 Zerlege diese Quadrate durch das Einzeichnen von zwei Geraden.


in vier
Dreiecke.




in drei
Dreiecke.




in ein Rechteck
und zwei Dreiecke.




in ein Rechteck und
zwei Quadrate.




in vier
Quadrate.



in vier
Rechtecke.



in ein Dreieck
und zwei Vierecke.



3 Finde eine eigene Zerlegung mit drei Geraden.
Benenne die Formen, die entstehen.

