

1

$$\begin{array}{r} 231539 \\ + 587046 \\ \hline \end{array}$$

$$\begin{array}{r} 496752 \\ + 301899 \\ \hline \end{array}$$

$$\begin{array}{r} 730148 \\ - 692750 \\ \hline \end{array}$$

$$\begin{array}{r} 825601 \\ - 134987 \\ \hline \end{array}$$

2

$$41705 \cdot 3$$

$$92638 \cdot 5$$

$$10567 \cdot 9$$

$$73482 \cdot 4$$

3

Finde die fehlenden Ziffern.

$$\begin{array}{r} 7 \square 15 \square : 6 = 2 \square 9 \square \\ 6 \square \\ 1 \square \\ 12 \\ \hline 41 \\ 3 \square \\ \hline 55 \\ 54 \\ \hline 18 \\ 18 \\ \hline \end{array}$$


$$\begin{array}{r} 6902 \cdot 8 \\ 2 \square 5 \square 1 \square \end{array}$$

$$\begin{array}{r} 93 \square 71 \cdot \square \\ \square 8 \square 1 \square 2 \end{array}$$

$$\begin{array}{r} 70 \square 3 \square \cdot 4 \\ \square 8 \square 936 \end{array}$$

$$\begin{array}{r} 5 \square 143 \square \\ + 195 \square 78 \\ \hline \square 6 \square 74 \end{array}$$

$$\begin{array}{r} 692 \square \square 5 \\ - \square 01396 \\ \hline 2 \square \square 79 \square \end{array}$$



Teiler

1 Finde mit möglichst wenigen Aufgaben alle Teiler der Zahlen.

21

$$21 : 1 = 21$$

Teiler von 21:

39

Teiler von 39:

44

Teiler von 44:

50

Teiler von 50:

2 Immer 2 Teiler sind falsch. Streiche durch.



Teiler von 18:

~~4~~ 2 3 9
6 18 1 8

Teiler von 40:

2 4 6 20 40
8 5 10 14 1

Teiler von 28:

14 4 3 28
2 1 7 18



Rechnen in Tabellen

1 Ergänze.

10 000	
7 209	
	4 998
3 321	
	999

100 000	
48 532	
35 686	
	9 604
	10 717

1 000 000	
	555 000
40 500	
399 999	
	111 111

2

·	38		3 080
2		616	
3			
4			
6			
8			
			30 800

:	50	25	
500			
1 000			
2 500			5
10 000			
	600		
450 000			



Schriftliches Multiplizieren mit großen Zahlen

1 Multipliziere schriftlich.

$$\begin{array}{r} 186 \cdot 40 \\ \hline \end{array}$$

$$\begin{array}{r} 319 \cdot 70 \\ \hline \end{array}$$

$$\begin{array}{r} 538 \cdot 60 \\ \hline \end{array}$$

$$\begin{array}{r} 862 \cdot 50 \\ \hline \end{array}$$

$$\begin{array}{r} 473 \cdot 90 \\ \hline \end{array}$$

$$\begin{array}{r} 2738 \cdot 30 \\ \hline \end{array}$$

$$\begin{array}{r} 6504 \cdot 80 \\ \hline \end{array}$$

$$\begin{array}{r} 7059 \cdot 70 \\ \hline \end{array}$$

$$\begin{array}{r} 14913 \cdot 20 \\ \hline \end{array}$$

$$\begin{array}{r} 806 \cdot 600 \\ \hline \end{array}$$

$$\begin{array}{r} 234 \cdot 900 \\ \hline \end{array}$$

$$\begin{array}{r} 572 \cdot 800 \\ \hline \end{array}$$

$$\begin{array}{r} 653 \cdot 400 \\ \hline \end{array}$$

2 Multipliziere jeweils die erste Aufgabe schriftlich.
Löse die anderen Aufgaben geschickt.

$$\begin{array}{r} 354 \cdot 7 \\ \hline \end{array}$$

$$\begin{array}{r} 582 \cdot 5 \\ \hline \end{array}$$

$$\begin{array}{r} 176 \cdot 3 \\ \hline \end{array}$$

$354 \cdot 70 = \square$


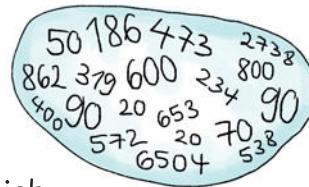
$582 \cdot 50 = \square$

$176 \cdot 300 = \square$

$354 \cdot 700 = \square$

$582 \cdot 500 = \square$

$176 \cdot 3000 = \square$



Schriftliches Multiplizieren mit zweistelligen Zahlen

1 Multipliziere schriftlich.

$$\begin{array}{r} 425 \cdot 27 \\ \underline{850} \\ 2975 \\ \hline \end{array}$$

$$\begin{array}{r} 371 \cdot 53 \\ \hline \end{array}$$

$$\begin{array}{r} 824 \cdot 76 \\ \hline \end{array}$$

$$\begin{array}{r} 596 \cdot 42 \\ \hline \end{array}$$

$$\begin{array}{r} 1706 \cdot 38 \\ \hline \end{array}$$

$$\begin{array}{r} 2467 \cdot 65 \\ \hline \end{array}$$

$$\begin{array}{r} 6032 \cdot 84 \\ \hline \end{array}$$



2 Rechne zuerst einen Überschlag, multipliziere dann schriftlich.

Ü: $600 \cdot 50 = 30\,000$

Ü: _____

Ü: _____

$$\begin{array}{r} 631 \cdot 48 \\ \hline \end{array}$$

$$\begin{array}{r} 967 \cdot 23 \\ \hline \end{array}$$

$$\begin{array}{r} 5428 \cdot 75 \\ \hline \end{array}$$



Schriftliches Multiplizieren mit dreistelligen Zahlen

1 Multipliziere schriftlich.

$$\begin{array}{r} 342 \cdot 156 \\ \underline{2052} \\ 1710 \\ \underline{3420} \\ 53112 \end{array}$$

$$\begin{array}{r} 537 \cdot 294 \\ \hline \\ \\ \\ \end{array}$$

$$\begin{array}{r} 806 \cdot 435 \\ \hline \\ \\ \\ \end{array}$$

$$\begin{array}{r} 1670 \cdot 529 \\ \hline \\ \\ \\ \end{array}$$

$$\begin{array}{r} 2083 \cdot 421 \\ \hline \\ \\ \\ \end{array}$$

$$\begin{array}{r} 2987 \cdot 123 \\ \hline \\ \\ \\ \end{array}$$

2 Finde die Fehler und kreuze sie ein. Rechne dann richtig.




$$\begin{array}{r} 4529 \cdot 263 \\ \underline{8058} \\ 27074 \\ \underline{13587} \\ 1090027 \end{array}$$

$$\begin{array}{r} \\ \\ \\ \\ \end{array}$$




Grundrechenarten üben


Berechne die Summe aus
23 956 und 284 107.



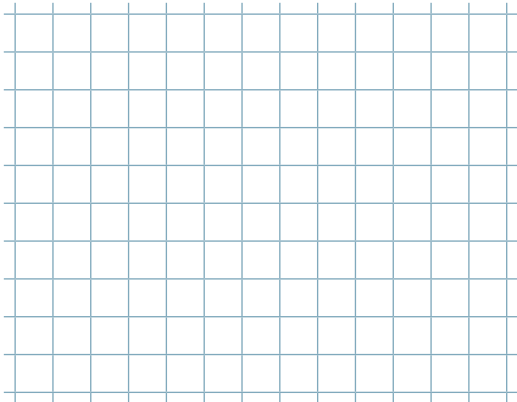
Berechne die Differenz aus
420 874 und 193 571.



Berechne das Produkt aus
638 und 576.



Berechne den Quotienten
aus 53 473 und 7.



Berechne die Differenz aus 305 826 und 178 469.
Multipliziere das Ergebnis mit 6.

